

ÉVALUATIONS MATHÉMATIQUES

1) Continue d'écrire la suite des nombres :

Write the numbers which go between :

Sıralamayı devam et :

0 - 1 - 2 - -12

25 - 26 - 27 - - 33

191 - 192 - 193 - - 202

993 - 994 - 995 - -1002

2) Écris les nombres en lettres.

Write these numbers in words.

Sayıları harflerle yaz.

8

45.....

168.....

3) Ordonne les nombres en respectant les signes < et >.

Write the proper symbol < (smaller than) > (bigger than).

Sayıları " < " veya " > " işaretleriyle sırala.

2.... 8 - 46....29 - 183....201 - 500....199

4) Range dans l'ordre croissant.

Rewrite the number from the smallest to the biggest.

Sayıları küçükten büyüğe doğru sırala.

81 - 328 - 1001 - 2 - 1224 - 201 - 2489 - 49

5) Range dans l'ordre décroissant :

Rewrite the numbers from the biggest to the smallest :

Sayıları en büyükten en küçüğe doğru sırala :

2065 - 524 - 88 - 735 - 2 - 5347 - 999 - 24 - 1001 - 77

6) Effectue les opérations :

Calculate :

İşlemleri tamamla :

$2 + 4 = \dots\dots$

$8 + 8 = \dots\dots$

$12 + 46 = \dots\dots$

$78 + 20 = \dots\dots\dots$

$289 + 50 = \dots\dots\dots$

$8 - 5 = \dots\dots$

$26 - 12 = \dots\dots\dots$

$83 - 45 = \dots\dots$

$5 \times 6 = \dots\dots$

$7 \times 9 = \dots\dots\dots$

$24 \times 5 = \dots\dots\dots$

$48 \times 23 = \dots\dots\dots$


$12 : 4 = \dots\dots\dots$

$356 : 25 = \dots\dots\dots$

7) Rejoins les points en suivant l'ordre des nombres :

Join the dots in the right order :


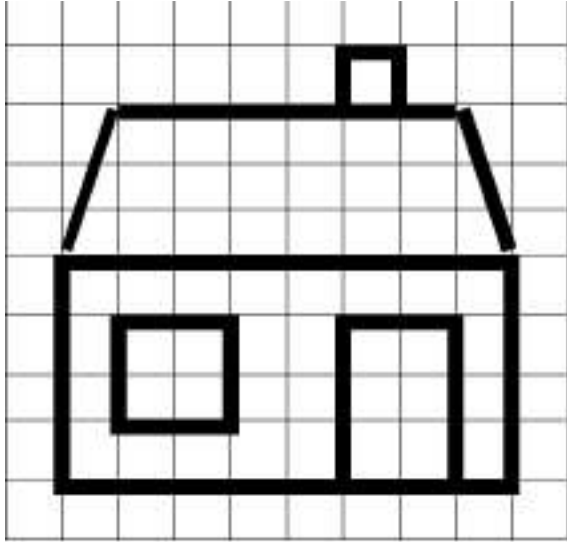
Sayıların sırasına göre noktaları birleştir :



8) Reproduis la figure sur le quadrillage :

Reproduce the picture in the grid :

Aynı resmi yandaki kareye çiz :



9) Dessine : *Draw* : *Çiz*

Un carré | *a square* | *kare*

Un rectangle | *a rectangle* | *dikdörtgen*

Un triangle | *a triangle* | *üçgen*

Un cercle | *a circle* | *daire*

12) Trace des segments de 12cm, 6cm et 8cm.

Draw segments measuring 12 cm, 6 cm and 8 cm.

12 cm, 6 cm ve 8 cm uzunluğunda doğru parçası çiz.

13) Regroupe par 2 les mesures identiques.

Make pairs with the equal lengths (join them).

2 aynı ölçüleri eşleştir

0,1 cm O
1cm O
1000m O
0,1km O

O 1km
O 1mm
O 10mm
O 100m

14) Retrouve la masse qui peut correspondre à :

How much does this weigh ?

İsmi verilen cisimlerle verilen ağırlık birimleriyle eşleştir :

Un camion <i>A lorry</i> <i>kamyon</i>
Un homme <i>A man</i> <i>insan</i>
Un cartable <i>A school bag</i> <i>Okul cantası</i>

7,5 kg
7,5 t
75 kg

15) Écris ces mesures en grammes.

Convert into grams.

Ölçüleri grama çevir.

3 kg 150g =g

2kg 3hg =g

6g 2dg 5cg =g

16) Mesures de durée.

Measure of times.

Zaman ölçüleri.

a) - Transforme 145 minutes en heures et minutes.

a) - How many hours and minutes in 145 minutes.

a) -145 dakikayı saat ve dakikaya çevir.

b) - Transforme 1 heure 15 minutes en minutes.

b) - How many minutes are there in 1 hour and 15 minutes.

b) -1 saat 15 dakika yı dakikaya çevir.

c) - Un train part de Paris pour Limoges à 12 h 45. Le trajet dure 4 h 25.

A quelle heure arrive-t-il ?

c) - A train leaves Paris at 12:45 heading to Limoges. The journey lasts for 4 hours and 25 minutes.

What time does the train arrive in Limoges ?

c) - Bir tren, 12.45 teParis'ten Limoges'a hareket ediyor. Aradaki mesafe, 4 saat 25 dakika olduğuna göre, tren saat kaçta Limoges'a ulaşır ?
